

**Karnali Province Assistant 5th Level**  
**(Administration/Account/Audit)**  
**IQ Practice Set 2**

1. यदि बिक्री मूल्य दोब्बर हुँदा नाफा तीन गुणा हुन्छ भने नाफा प्रतिशत पत्ता लगाउनुहोस्।  
A.  $66\frac{2}{3}$                       B. 100                      C.  $105\frac{1}{3}$                       D. 120
2. एक फलफूल बिक्रेतासँग केही स्याउ थियो। उसले ४० प्रतिशत स्याउ बेचिसक्दा उसंग अझै ४२० स्याउ बाँकि रहन गए भने उसंग सुरुमा कतिवटा स्याउ थिए ?  
A. 588 apples              B. 600 apples              C. 672 apples              D. 700 apples
3. यदि २००६ जनवरी १ मा आईतबार पर्छ भने २०१० जनवरी १ मा कुनबार पर्दछ?  
A. Sunday              B. Saturday              C. Friday              D. Wednesday
4. एक जना ६५ केजी तौल भएको व्यक्तिको सट्टामा नयाँ एक जना व्यक्ति आउँदा ८ जनाको औसत तौल २.५ केजीले बढ्छ भने पछि आएको व्यक्तिको तौल कति होला?  
A. 76kg                      B. 76.5 kg                      C. 85 kg                      D. Data Inadequate
5. A ले कुनै काम ४ घण्टामा गर्न सक्छ, B र C ले सो काम ३ घण्टामा गर्न सक्छन, जबकि A र C ले २ घण्टामा गर्न सक्छ भने B एकलैले उक्त काम गर्न गर्न कति समय लगाउँछ?  
A. 8 hr                      B. 10 hr                      C. 12 hr                      D. 24 hr
6. A, B, C, D लाई केही रकम ५ : २ : ४ : ३ को अनुपातमा रकम बाँडफाँड

**Karnali Province Assistant 5th Level**  
**(Administration/Account/Audit)**

**IQ Practice Set 2**

गर्नुपर्ने छ। यदि C ले रु. D भन्दा रु. १००० बढी पाउँछ भन् B को हिस्सा कति हो?

A. 500                      B. 1500                      C. 2000                      D. None of these

7. तलको श्रेणी पुरा गर्नुहोस्.

5.2, 4.8, 4.4, 4, ?

A. 3                      B. 3.3                      C. 3.5                      D. 3.6

8. तलका शब्दहरूलाई अर्थपूर्ण क्रममा मिलाउनुहोस्

1. इन्द्रेणी 2. वर्षा 3. सुर्य 4. खुसी 5. बच्चा

A. 4,2,3,5,1                      B. 2,3,1,5,4                      C. 4,5,1,2,3                      D. 2,1,4,5,3

9. तलका मध्ये कुन रेखाचित्रले न्यायाधीश, चोर र अपराधी बीचको सम्बन्धलाई संकेत गर्छ?



10. एक दिन बिहान उदय र विशाल एक दोबाटोमा आमनेसामने कुरा गरिरहेका थिए। यदि विशालको छायाँ उदयको ठिक बायाँतिर थियो भने, उदयले कुन दिशातर्फ फर्केर कुरा गरिरहेको थियो?

A. East                      B. West                      C. North                      D. South

11. P, Q, R, S, T र V गरि छ जना केटीहरू वृत्ताकार टेबलको केन्द्रमा मुख फर्काएर बसिरहेका छन्। Q र S बीचमा T बसेको छैन तर अरू कोही बसेको छ। P चाहीं V को बायाँको छेउमा छ। R भने P को दायाँ तिर ४ औँ स्थानमा छ। यस बसाईमा T को स्थान तलका मध्ये कुन हो?

A.                      B. Second to P                      C.                      D.

Q को ठिक दाँया                      को बाँया तर्फ                      Q र R को                      V को लगत्तै दाँया  
तर्फ                      दोस्रो स्थानमा                      बिचमा                      तर्फ

12. SCD, TEF, UGH, \_?

A. VUK                      B. IJK                      C. JIV                      D. VIJ

**Karnali Province Assistant 5th Level**  
**(Administration/Account/Audit)**

**IQ Practice Set 2**

13. तलका मध्ये समुहमा नमिल्ने कुन छ ?

63,84,91,98,65

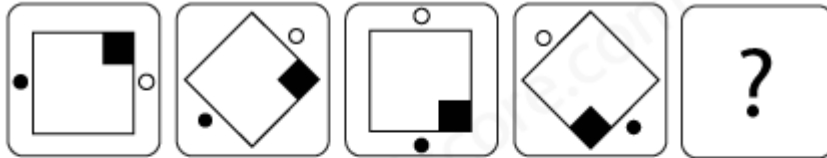
A.63

B. 84

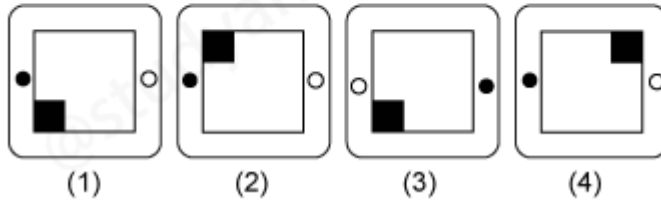
C. 98

D. 65

14. श्रेणी पुरा गर्नुहोस्।



Answer figures:



A.4

B.3

C.2

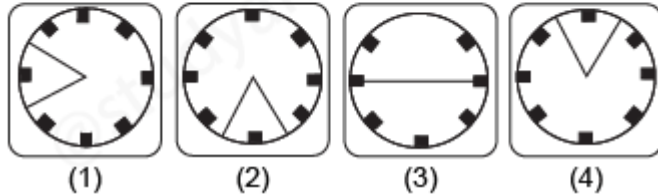
D.1

15. पानि X देखि Y सम्म फैलिएको अवस्थामा Question figure को पानिको आकृति कस्तो बन्छ?

Question figure:



Answer figures:



A.1

B.2


C.3

D.4

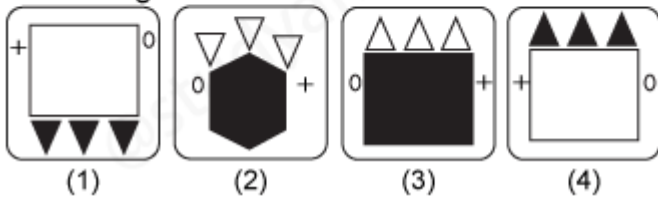
16. शुरुका दुईवटा चित्रमा रहेको सम्बन्धका आधारमा प्रश्नवाचक चिन्हमा कुन चित्र हुन्छ?

**Karnali Province Assistant 5<sup>th</sup> Level**  
**(Administration/Account/Audit)**  
**IQ Practice Set 2**

Question figures:

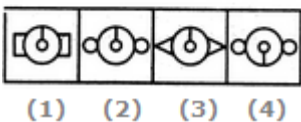
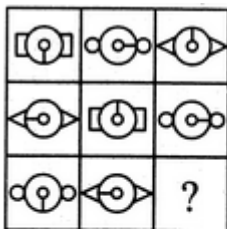


Answer figures:



- A.1                      B.2                      C.3                      D.4

17. तलको चित्रमा रहेको प्रश्नवाचक चिन्हलाई विकल्पका चित्रहरुबाट छनौट गरि पुरा गर्नुहोस।



- A.1                      B.2                      C.3                      D. 4

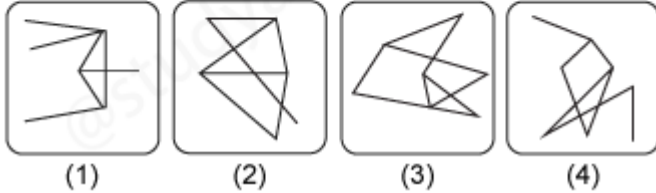
18. Question figure मा दिइएको चित्र Answer Figure को कुन चित्रमा लुकेको छ?

**Karnali Province Assistant 5<sup>th</sup> Level**  
**(Administration/Account/Audit)**  
**IQ Practice Set 2**

Question figure:

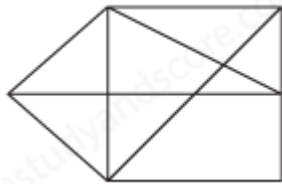


Answer figures:



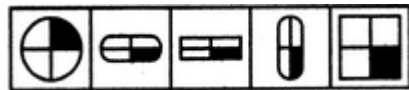
- A.1                      B.2                      C.3                      D.4

19. त्रिभुजको संख्या गणना गर्नुहोस्।



- A.20                      B.16                      C.15                      D.18

20. तलको चित्रको समूहमा नमिल्ने चित्र पत्ता लगाउनुहोस्?



- A                      B                      C                      D                      E
- A.C                      B. A                      C. D                      D. E