





12. कुनै लाईनमा सिता अगाडिबाट २१ औं र गिता पछाडिबाट २० औं स्थानमा छन्। यदि उनिहरूले एकआपसमा स्थान परिवर्तन गर्दा सिता अगाडिबाट २८ औं स्थानमा हुन्छिन् भने त्यस लाईनमा उनिहरूबाहेक कति मानिसहरू होलान ?

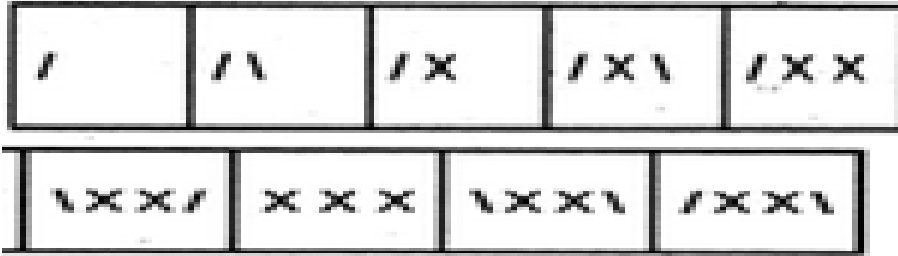
- A. ४७                      B. ४०                      C. ३८                      D. ४५

13. तलको श्रेणी पुरा गर्नुहोस्।

2, 3, 5, ?, 13, 21

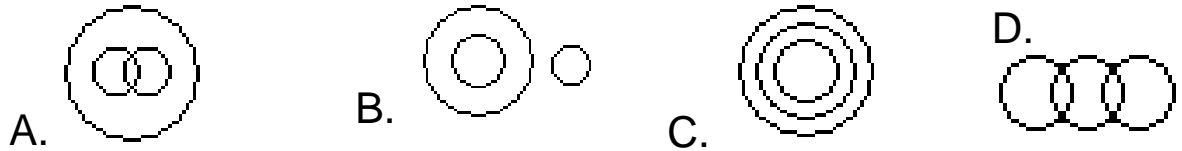
- A. 7                      B. 8                      C. 9                      D. 10

14. तलको श्रेणीमा अन्तिम चित्रपछी विकल्पहरूमध्ये कुन चित्र आउला ?

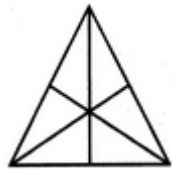


- A.                      B.                      C.                      D.

15. महिला बहिनि र आमा बिचको सम्बन्धलाई तलका मध्ये कुन भेन चित्रले देखाउँदछ ?





16. तलको चित्रमा त्रिभुजको संख्या कति छ ?



- A. 13                      B. 14                      C. 15                      D. 16

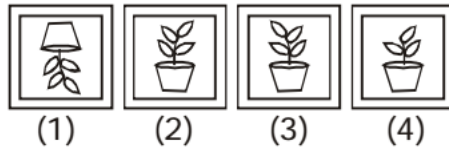
17.



A. B. C. D.

18. Question Figure मा दिइएको चित्रको ऐनाको आकृति Answer Figure मा दिइएको चित्रहरूमध्ये कुन हुन्छ ?

Question Figure : Answer Figures :



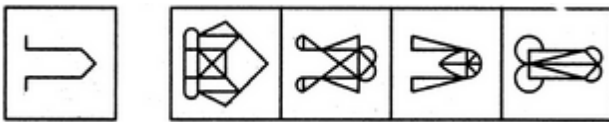
A. 4

B. 3

C. 2

D. 1

19. Problem Figure मा दिइएको चित्र Answer Figure को कुन चित्रमा लुकेको छ ?



Problem Figure

A

B

C

D

Answer Figure

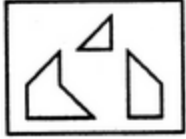
A. D

B. C

C. B

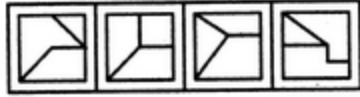
D. A

20. चित्र X मा दिइएका टुक्राहरू मिलेर विकल्पमा दिइएका मध्ये कुन चित्र बन्छ ?



(x)

A. 1



(1)

(2)

(3)

(4)

B. 2

C. 3

D. 4